

MAPY

A

VLAJKY

SPOUSTA ZAJÍMAVOSTÍ O MAPÁCH A VLAJKÁCH CELÉHO SVĚTA

SZ

SV

Z


V

JZ

JV

J





NAPSAL JOE FULLMAN

ILUSTROVAL ANDY ROWLAND

PŘELOŽIL A UPRAVIL MILAN BRONCLÍK

LAYOUT NAVRHL ANDY MANSFIELD

OBÁLKU VYTVOŘILA ANGIE ALLISONOVÁ

*Upozornění pro čtenáře a uživatele této knihy
Všechna práva vyhrazena. Žádná část této tištěné či elektronické knihy nesmí být reprodukována a šířena v papírové, elektronické či jiné podobě bez předchozího písemného souhlasu nakladatele. Neoprávněné užití této knihy bude trestně stíháno.
Automatizovaná analýza textů nebo dat ve smyslu č. 4 směrnice 2019/790/EU a použití této knihy k trénování AI jsou bez souhlasu nositele práv zakázány.*

First published in Great Britain in 2025 by Buster Books, an imprint of Michael O'Mara Books Limited,
9 Lion Yard, Tremadoc Road, London SW4 7NQ.

Copyright © Buster Books 2025
with images from Shutterstock.com


Pod značkou Bambook vydala Grada Publishing, a. s.
Czech edition: © 2026 Grada Publishing, a. s.

Joe Fullman, Andy Rowland
Mapy a vlajky

Sazba Artedit, spol. s r. o.
Vytiskly Tiskárny Havlíčkův Brod a. s.
Počet stran: 96
Vydala Grada Publishing, a. s.
U Průhonu 22, 170 00 Praha 7
jako svou 10 481. publikaci
První vydání, Praha 2026

ISBN: 978-80-247-9487-7 (pdf)
ISBN: 978-80-271-0276-1 (print)

Publikace z nakladatelství Grada Publishing, a. s., si můžete zakoupit u svého knihkupce nebo objednat v zákaznickém servisu nakladatelství Grada Publishing, a. s., U Průhonu 22, 170 00 Praha 7, tel.: 234 264 511, e-mail: obchod@grada.cz, www.grada.cz.





OBSAH

Úvod.....	6
Co je to mapa?	8
Co je to vlajka?.....	10
Severní Amerika	14
Kanada, Spojené státy, Mexiko	16
Belize, Guatemala, Honduras, Salvador	17
Nikaragua, Kostarika, Panama, Bahamy	18
Kuba, Haiti, Dominikánská republika, Jamajka	19
Antigua a Barbuda, Svatý Kryštof a Nevis, Dominika, Svatá Lucie	20
Svatý Vincenc a Grenadiny, Barbados, Grenada, Trinidad a Tobago	21
Něco více o mapách: Pirátské mapy	22
Jižní Amerika	24
Venezuela, Kolumbie, Ekvádor	26
Guyana, Surinam, Brazílie	27
Peru, Bolívie, Chile	28
Paraguay, Argentina, Uruguay	29
Něco více o mapách: Mapy v průběhu času.....	30
Evropa	32
Norsko, Finsko, Švédsko	34
Dánsko, Estonsko, Lotyšsko, Litva	35
Skotsko, Severní Irsko, Anglie, Wales	36
Spojené království, Irsko, Island	37
Nizozemsko, Belgie, Lucembursko	38
Bělorusko, Ukrajina, Moldavsko, Rumunsko	39
Německo, Polsko, Švýcarsko, Lichtenštejnsko	40
Francie, Monako, Andorra	41
Česko, Slovensko, Rakousko, Maďarsko	42
Itálie, San Marino, Vatikán	43
Slovinsko, Chorvatsko, Srbsko, Kosovo	44
Bosna a Hercegovina, Černá Hora, Severní Makedonie, Rusko	45
Bulharsko, Albánie, Řecko, Kypr	46
Španělsko, Portugalsko, Malta	47
Něco více o mapách: Dopravní mapy	48





Afrika 50

Maroko, Alžírsko, Tunisko, Libye 52

Egypt, Kapverdy, Mauritéanie, Mali 53

Niger, Čad, Súdán, Jižní Súdán 54

Senegal, Gambie, Guinea-Bissau, Guinea 55

Sierra Leone, Libérie, Pobřeží slonoviny, Burkina Faso 56

Ghana, Togo, Benin, Nigérie 57

Kamerun, Svatý Tomáš a Princův ostrov, Rovníková Guinea,
Středoafriická republika 58

Gabon, Konžská republika, Konžská demokratická republika 59

Eritrea, Džibutsko, Etiopie, Somálsko 60

Uganda, Keňa, Rwanda, Burundi 61

Tanzanie, Mosambik, Malawi, Zambie 62

Angola, Namibie, Botswana, Zimbabwe 63

Jižní Afrika, Svazijsko, Lesotho, Madagaskar 64

Seychely, Komory, Mauricius 65

Něco více o mapách: Mapování divoké přírody 66

Asie 68

Turecko, Arménie, Ázerbájdžán, Gruzie 70

Sýrie, Libanon, Izrael, Palestina 71

Jordánsko, Saúdská Arábie, Jemen, Omán 72

Spojené arabské emiráty, Katar, Bahrajn, Kuvajt 73

Irák, Írán, Turkmenistán, Uzbekistán 74

Kazachstán, Kyrgyzstán, Tádžikistán, Afghánistán 75

Indie, Pákistán, Nepál, Bhútán 76

Bangladéš, Šrí Lanka, Maledivy, Myanmar (Barma) 77

Thajsko, Laos, Vietnam, Kambodža 78

Malajsie, Brunej, Singapur, Indonésie 79

Východní Timor, Filipíny, Taiwan, Čína 80

Korejská lidově demokratická republika, Mongolsko, Korejská republika,
Japonsko 81

Něco více o mapách: Časová pásma 82

Oceánie 84

Mikronésie, Palau, Marshallovy ostrovy 86

Kiribati, Nauru, Šalomounovy ostrovy, Tuvalu 87

Samoa, Vanuatu, Fidži, Tonga 88


Papua Nová Guinea, Austrálie, Nový Zéland 89

Něco více o mapách: Různé druhy map 90

Zámořská území 92

Slovníček pojmů 95

Rejstřík 96



ÚVOD

Tato kniha se podrobně věnuje mapám a vlajkám, dvěma nejdůležitějším způsobům, jak vizuálně představit nějakou zemi či stát. Mapa ukazuje tvar území daného státu a polohu jeho významných měst i jiných útvarů. Vlajka je barevný, dobře rozpoznatelný grafický symbol daného státu, který jej může reprezentovat po celém světě. Studium map a vlajek nám může poskytnout fascinující pohled na rozdíly, ale i podobnosti mezi státy.

Postavičky zvířat, jako jsem třeba já, se budou objevovat na různých stránkách, aby vám sdělily něco víc o mapách a vlajkách svých domovin.



CO JE TO STÁT?

V této knize vám představíme vlajku a mapu každého státu světa. Ale co je to vlastně ten stát? Odpověď může být překvapivě těžká, protože žádná mezinárodně uznávaná definice neexistuje. Obecně bychom ale o každém státu měli být schopni uvést všechny body z následujícího seznamu:


- Mělo by to být území s jasně určenými hranicemi, které lze zobrazit na mapě.
- Měli by zde trvale žít lidé.
- Měl by mít vládu, která jeho obyvatele zastupuje pro ostatní státy.
- Stát (a jeho vlajka) by měl být uznáván většinou ostatních států.

Tato mapa znázorňuje pevninské Spojené státy americké (USA). Nalistujte si str. 16 a dovíte se o nich víc.

ZÁMOŘSKÁ ÚZEMÍ

Ne všechny kusy souše na naší planetě jsou samostatnými státy. Některé patří k jiným státům a často se o nich mluví jako o zámořských územích. Více se o nich dovíte na str. 92.

Většina států je členem organizace spojených národů (OSN), mezinárodního sdružení, kde jednotlivé země diskutují o celosvětových záležitostech. OSN má vlastní vlajku, kterou vám tady teď mávám.



CO JE TO MAPA?

Mapa je vyobrazení nějaké oblasti pohledem shora. Existuje řada druhů map, které mohou přinášet různé informace, ale všechny fungují na víceméně stejném základě: ke znázornění tvaru území a rozložení různých prvků používají barvy a symboly.

MAPY VELKÝCH OBLASTÍ

Abychom na mapě mohli něco vyznačit, je třeba všechny prvky dané oblasti stejným způsobem zmenšit. Poměr zmenšení mapy oproti skutečnosti udává měřítko mapy. Některé mapy, jako tato mapa světa, zobrazují opravdu velkou oblast, a tak nemohou obsahovat mnoho detailů.



MAPY MALÝCH OBLASTÍ

Mapy mohou zobrazovat i velmi malé oblasti, třeba město, nebo dokonce jen pár ulic. Takovéto mapy pak mohou obsahovat mnoho detailů.

SYMBOLY

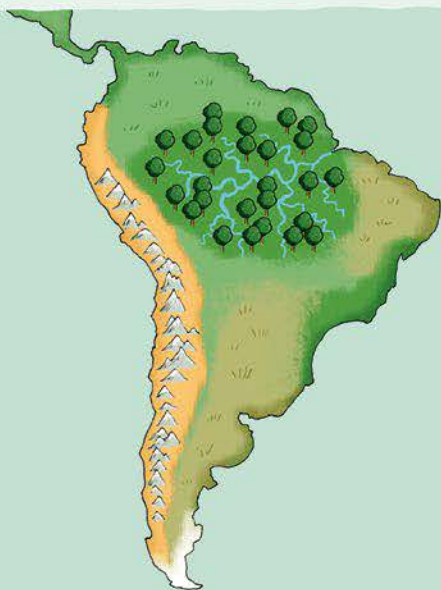
Symbole jsou malé obrázky představující konkrétní prvky na mapě. Význam každého symbolu je uveden v legendě mapy. Některé prvky mohou být zvýrazněny i barevně, třeba parky (zeleně) nebo řeky (modře).

LEGENDA

PARKOVIŠTĚ	POŠTA	ŠKOLA
NEMOCNICE	ČERPAČÍ STANICE	DĚTSKÉ HRŠTĚ
MUZEUM	KOUPALIŠTĚ	SUPERMARKET

POLITICKÉ MAPY

Většinu map v této knize tvoří mapy politické. Tyto mapy zobrazují, jak je nějaká oblast rozdělena na různé státy či země. To znamená, že na nich uvidíme to, co ve skutečnosti vidět není – hranice, tedy čáry oddělující jednotlivé státy. Jejich území jsou pak obvykle vyznačena různými barvami.



FYZICKÉ MAPY

Fyzická mapa zachycuje přírodní prvky v krajině, jako jsou hory, údolí a řeky. Barvy na ní zpravidla představují různá prostředí, například lesy mohou být zelené, hory šedé a pouště oranžové. Různé odstíny těchto barev pak obvykle značí území s různou nadmořskou výškou.

TEMATICKÉ MAPY

Některé mapy se soustředí pouze na určité prvky nebo jevy. Mohou tak třeba zobrazovat počasí v dané oblasti, hlavní dopravní cesty nějakého velkoměsta nebo výskyt různých zvířat na nějakém světadílu.

Tematické mapy představují skvělý způsob, jak znázornit odpovědi na jednoduché otázky, třeba „Ve kterých zemích se jezdí vpravo a ve kterých vlevo?“ nebo „Co je nejoblíbenější potravina v každé zemi světa?“.



CO JE TO VLAJKA?


Vlajka je vizuální symbol, který něco reprezentuje, například stát nebo nějakou organizaci. Nejčastěji má podobu obdélníkového kusu látky s nějakým barevným vzorem a bývá zavěšena na stožáru. Každý stát světa má vlajku se svým vlastním jedinečným vzorem. Své vlajky mají také různé regiony nebo města.

ČÁSTI VLAJKY

STOŽÁR, případně kratší ŽERĎ

ŽERĎOVÁ ČÁST – část vlajky blíže k žerdi

VLAJÍCÍ ČÁST – část vlajky nejdál od žerdi ukončená horním a dolním cípem a vlajícím okrajem



LANKO je připevněno k hornímu a dolnímu rohu žerďového okraje a slouží k vytahování a spouštění vlajky

POLE – pozadí vlajky



Držím vlajku Kanady (str. 16). V její střední části se nachází jeden z nejdůležitějších symbolů této země – javorový list. Je skoro stejně důležitý jako já, bobr – národní zvíře Kanady.

TVARY VLAJEK

Většina států má obdélníkové vlajky. Vlajky Švýcarska a Vatikánu jsou čtvercové. Naprosto jedinečnou vlajku složenou ze dvou pravouhlých trojúhelníků má Nepál.



VLAJKA ŠVÝCARSKA
(str. 40)



VLAJKA NEPÁLU
(str. 76)

POMĚR STRAN

Jednotlivé vlajky mají často různý poměr šířky a délky stran. Vlajka Švýcarska je čtvercová, poměr stran je tedy 1 : 1. Vlajka Francie má poměr stran 2 : 3, její délka je tedy jedenapůlkrát větší než šířka. Vlajka Spojeného království Velké Británie a Severního Irsku má s poměrem stran 1 : 2 dvakrát větší délku než šířku.



VLAJKA FRANCIE,
2 : 3 (str. 41)



VLAJKA
SPOJENÉHO
KRÁLOVSTVÍ,
1 : 2 (str. 37)

VZORY VLAJEK

Každá vlajka má svůj jedinečný vzhled, aby byla snadno rozpoznatelná. Některé vzory však jsou pro řadu vlajek společné.

KANTON: obdélníková část, nejčastěji v levé horní čtvrtině vlajky, s určitým vzorem (či jinou vlajkou) – např. Austrálie (str. 89)



BŘEMENO: symbol nebo figura (rostlina, zvíře, mytický tvor, předmět) – např. Albánie (str. 46)




KLÍN: pole ve tvaru trojúhelníku se základnou na okraji vlajky – např. Bahamy (str. 18)



STÁTNI ZNAK: vzor skládající se ze symbolů (někdy i motto) reprezentujících stát – např. Ekvádor (str. 26)



SVATOJIŘSKÝ KŘÍŽ: souměrný ležatý kříž se středem uprostřed vlajky – např. Gruzie (str. 70)



SKANDINÁVSKÝ KŘÍŽ: ležatý kříž se středem blíže k žerdovému okraji vlajky – např. Švédsko (str. 34)



ONDŘEJSKÝ KŘÍŽ: úhlopříčný kříž se středem uprostřed vlajky – např. Jamajka (str. 19)



VODOROVNÉ PRUHY: vodorovné plochy po celé délce vlajky – např. Litva (str. 35)




SVISLÉ PRUHY: svislé plochy na vlajce, často ve trojici – např. Pobřeží slonoviny (str. 56)



VYVĚŠOVÁNÍ VLAJEK

Vlajky nevyvěšují jen státy. Své vlajky mají často i území uvnitř států, např. regiony či provincie, ale třeba i královské rodiny. Loď vyvěšují vlajku státu, ve kterém jsou registrovány, a vlajky se používají i ve sportu, např. v motorismu.



Černobílá šachovnicová vlajka signalizuje řidičům konec závodu.

SVĚTADÍLY A KONTINENTY

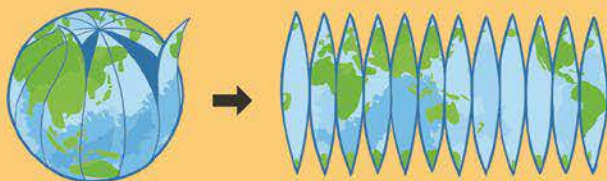
Svět se skládá ze sedmi světadílů. Většina lidí žije na šesti z nich: v Severní Americe, Jižní Americe, Evropě, Africe, Asii a Austrálii. Sedmý světadíl (a zároveň kontinent) Antarktida, ležící na nejjižnějším konci světa, je na to, aby na něm lidé mohli žít trvale, příliš chladný a nehostinný. V této knize postupně navštívíme všechny světadíly a seznámíme se s mapami a vlajkami všech jejich států, zemí a oblastí.

TICHÝ OCEÁN

OD GLÓBUSU K MAPĚ

Nejpřesnější mapou Země je glóbus, protože naše planeta má přibližně tvar koule. Aby tvůrci map neboli kartografové dokázali přenést oblasti ze zakřiveného glóbusu na plochou mapu, musejí jejich tvar poněkud zkreslit, tedy změnit.

Říká se tomu mapové zobrazení.



Představte si, že byste glóbus oloupali jako pomeranč a pak se snažili jednotlivé dílky slupky rozložit na stůl: budou mezi nimi mezery. Tvůrci map proto musejí tvary jednotlivých kousků země roztáhnout, aby tyto mezery zacelili.

SEVERNÍ
AMERIKA

ATLANTSKÝ
OCEÁN

JIŽNÍ
AMERIKA

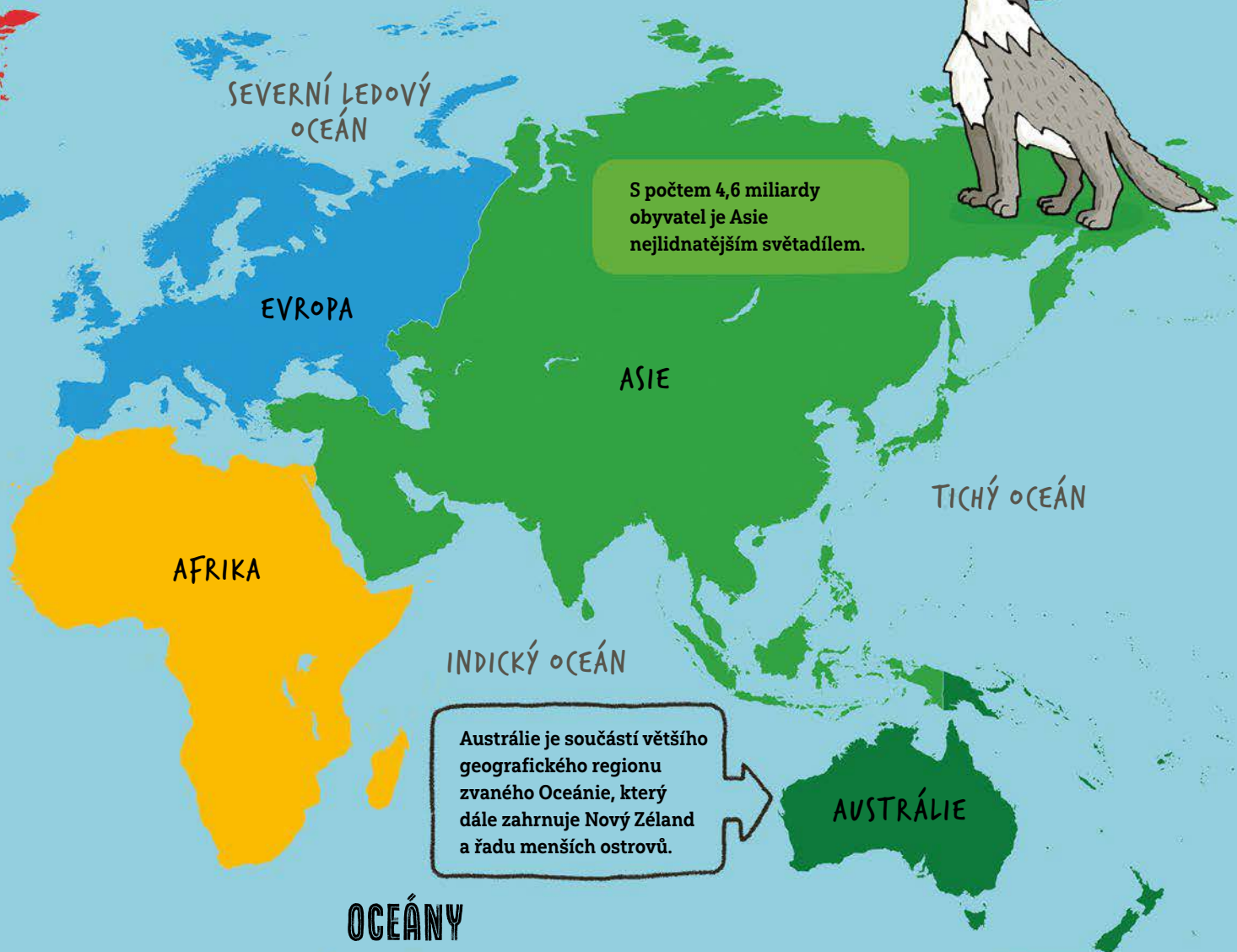
Severní Amerika a Jižní Amerika bývaly od sebe úplně odděleny. Dnes je spojuje úzký proužek pevniny zvaný Panamská šíje, který vznikl asi před třemi miliony let.



CO JE TO KONTINENT?

Kontinent je rozlehlá, souvislá část pevniny, která je většinou oddělená od jiných velkých částí pevniny. Někdy ale může dva kontinenty spojovat malý kousek souše, jako v případě Severní a Jižní Ameriky. Světadíly Evropa a Asie, které leží na jednom velkém kusu pevniny, však společně tvoří jediný kontinent – Eurasii.

Evropa a Asie byly už odedávna považovány za dva samostatné světadíly. Toto rozdělení však vzniklo spíše na základě kulturních a historických, a ne zeměpisných rozdílů. Mnoho zvířat, jako třeba my vlci obecní, žije na obou světadílech.



S počtem 4,6 miliardy obyvatel je Asie nejlidnatějším světadílem.

Austrálie je součástí většího geografického regionu zvaného Oceánie, který dále zahrnuje Nový Zéland a řadu menších ostrovů.

OCEÁNY

Pevnina představuje jen 29 % povrchu Země. Zbývajících 71 % pokrývá voda. I když tento světový oceán tvoří jedno souvislé vodní těleso, rozdělujeme jej na pět oceánů: Severní ledový, Tichý, Atlantský, Indický a Jižní oceán.

V Antarkidě žije přibližně 40 milionů nás tučňáků, ale jen asi 5000 lidí. Většinou jsou to vědci, kteří přijíždějí pracovat ve výzkumných stanicích.



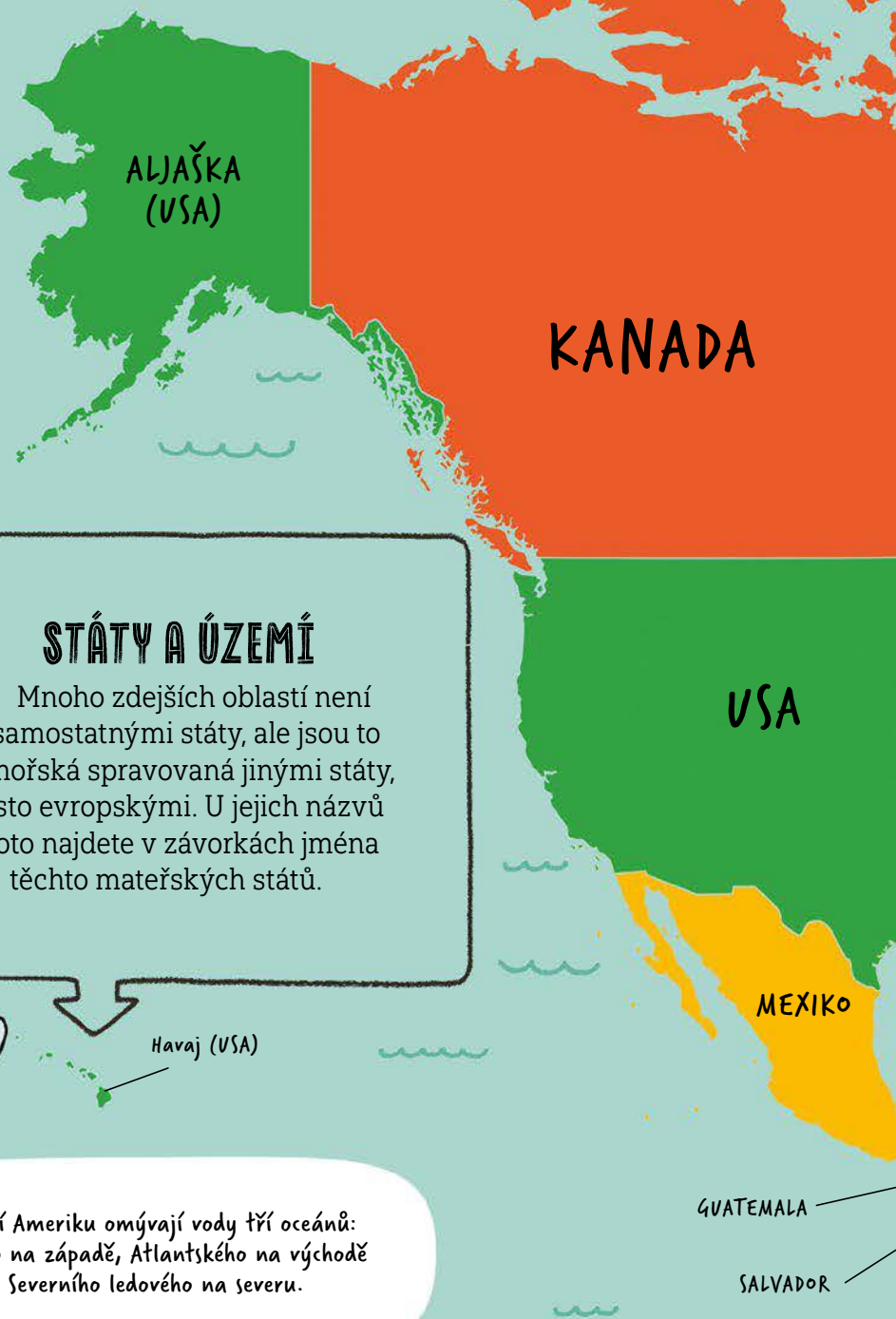
ANTARKTIDA

SEVERNÍ AMERIKA

Ačkoli se toto obrovské území táhne takřka od severního pólu až do tropů, dominují mu pouhé tři velké země: Kanada, Spojené státy a Mexiko. Ve Střední Americe a Karibiku se ale nachází spousta menších států. Prostředí zahrnuje jak jehličnaté lesy na severu, jimiž se potulují vlci a medvědi, tak velké pláně uprostřed, pouště na jihozápadě a bujné deštné lesy na jihu.

SEVERNÍ AMERIKA V KOSTCE

- **ROZLOHA:** 25 milionů km²
- **POČET STÁTŮ:** 23
- **POČET OBYVATEL:** 596 milionů
- **NEJVĚTŠÍ STÁT:** Kanada
- **NEJLIDNATĚJŠÍ STÁT:** USA
- **NEJMENŠÍ STÁT CO DO ROZLOHY I POČTU OBYVATEL:** Svatý Kryštof a Nevis
- **NEJVĚTŠÍ MĚSTO:** Mexiko (hl. město Mexika; 22,3 milionu obyvatel)



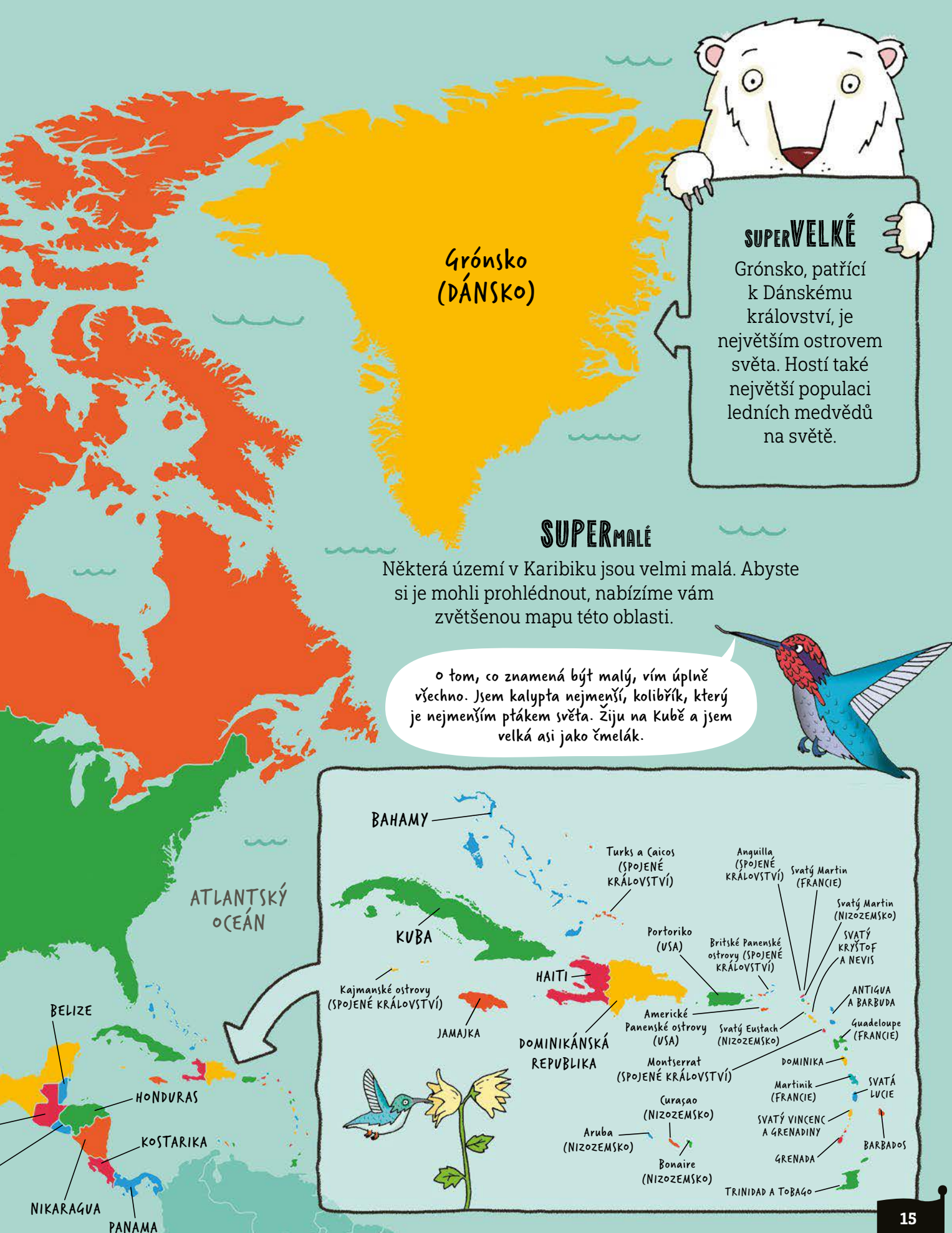
STÁTŮ A ÚZEMÍ

Mnoho zdejších oblastí není samostatnými státy, ale jsou to zámořská spravovaná jinými státy, často evropskými. U jejich názvů proto najdete v závorkách jména těchto mateřských států.

Havaj (USA)

TICHÝ OCEÁN

Severní Ameriku omývají vody tří oceánů: Tichého na západě, Atlantského na východě a Severního ledového na severu.



Grónsko (DÁNSKO)

SUPERVELKÉ

Grónsko, patřící k Dánskému království, je největším ostrovem světa. Hostí také největší populaci ledních medvědů na světě.

SUPERMALÉ

Některá území v Karibiku jsou velmi malá. Abyste si je mohli prohlédnout, nabízíme vám zvětšenou mapu této oblasti.

o tom, co znamená být malý, vím úplně všechno. Jsem kalypsa nejmenší, kolibřík, který je nejmenším ptákem světa. Žiju na Kubě a jsem velká asi jako čmelák.

ATLANTSKÝ OCEÁN

BAHAMY

KUBA

Kajmanské ostrovy (SPOJENÉ KRÁLOVSTVÍ)

JAMAJKA

HAITI
DOMINIKÁNSKÁ REPUBLIKA

Turks a Caicos (SPOJENÉ KRÁLOVSTVÍ)

Portoriko (USA)

Americké Panenské ostrovy (USA)

Montserrat (SPOJENÉ KRÁLOVSTVÍ)

Aruba (NIZOZEMSKO)

Bonaire (NIZOZEMSKO)

Anguilla (SPOJENÉ KRÁLOVSTVÍ)

Svatý Martin (FRANCIE)

Svatý Martin (NIZOZEMSKO)

SVATÝ KRÝŠTOF A NEVIS

ANTIGUA A BARBUDA

Guadeloupe (FRANCIE)

Svatý Eustach (NIZOZEMSKO)

DOMINIKA

Martinik (FRANCIE)

SVATÝ VINCENC A GRENADINY

GRENADA

SVATÁ LUCIE

BARBADOS

TRINIDAD A TOBAGO

BELIZE

HONDURAS

KOSTARIKA

NIKARAGUA

PANAMA

KANADA



POČET OBYVATEL: 39 milionů

ROZLOHA: 9 984 670 km²

MĚNA: kanadský dolar

PŘIJETÍ VLAJKY: 1965



O VLAJCE: Červený list uprostřed vlajky symbolizuje kanadské javory cukrové, ze kterých se ve velkém množství získává sladký sirup. Kolem 80 % celosvětové produkce javorového sirupu pochází právě z Kanady.

SPOJENÉ STÁTY



POČET OBYVATEL: 342 milionů

ROZLOHA: 9 833 517 km²

MĚNA: americký dolar

PŘIJETÍ VLAJKY: 1777



O VLAJCE: Kvůli jejímu typickému vzoru se jí přezdívá „Stars and Stripes“ (hvězdy a pruhy). Modrá barva symbolizuje spravedlnost, bílá čistotu a červená statečnost.

MEXIKO



POČET OBYVATEL: 131 milionů

ROZLOHA: 1 964 375 km²

MĚNA: mexické peso

PŘIJETÍ VLAJKY: 1821




O VLAJCE: Orel na kaktusu požírající hada je symbol z aztécké legendy, jenž vyznačil místo, kde mělo být založeno město Tenochtitlán (dnešní Mexiko).

Zpočátku bylo na vlajce USA jen 13 hvězd představujících 13 původních států. Jak přistupovaly další státy, zvyšoval se i počet hvězd.

První americké vlajce se občas říkalo „vlajka Betsy Rossové“ podle švadleny, která údajně navrhla její podobu a ušila její první verzi.



od roku 1960, kdy se Havaj stala 50. státem USA, je na vlajce 50 hvězd.



BELIZE



POČET OBYVATEL: 416 000

ROZLOHA: 22 966 km²

MĚNA: belizský dolar

PŘIJETÍ VLAJKY: 1981



O VLAJCE: Díky dvěma postavám dřevorubců je belizská vlajka jedinou státní vlajkou, která má mezi svými hlavními prvky lidi. Strom a latinské motto *Sub umbra floreo* (Vzkvétám ve stínu) odkazují na rozsáhlé deštné lesy.

GUATEMALA



POČET OBYVATEL: 18,3 milionu

ROZLOHA: 108 889 km²

MĚNA: guatemalský quetzal

PŘIJETÍ VLAJKY: 1871



O VLAJCE:

Pestrobarevný pták na znaku uprostřed vlajky je překrásný kvesal chocholatý, který již dlouho zastává významnou roli v kultuře země. Je po něm pojmenována i guatemalská měna.

HONDURAS



POČET OBYVATEL: 9,5 milionu

ROZLOHA: 112 090 km²

MĚNA: honduraská lempira

PŘIJETÍ VLAJKY: 1866



O VLAJCE: Severní pobřeží Hondurasu omývá Karibské moře, jižní pobřeží Tichý oceán. Modré pruhy po okrajích vlajky symbolizují právě tyto dvě velké vodní masy.

SALVADOR



POČET OBYVATEL: 6,6 milionu


ROZLOHA: 21 041 km²

MĚNA: americký dolar

PŘIJETÍ VLAJKY: 1912



O VLAJCE: V trojúhelníku ve znaku uprostřed vlajky jsou vyobrazeny moře a sopky. Nad nimi se tyčí zlatá hůl nesoucí červenou čepici svobody, za ní vychází slunce a nad ním se klene duha míru.



NIKARAGUA



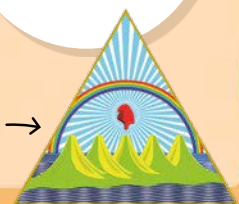
POČET OBYVATEL: 6,7 milionu

ROZLOHA: 130 370 km²

MĚNA: nikaragujská córdoba

PŘIJETÍ VLAJKY: 1908

O VLAJCE: Ve znaku uprostřed vlajky se zvedá pět sopek představujících pět zemí – Nikaraguu, Honduras, Salvador, Kostariku a Guatemalu –, jež kdysi tvořily stát Spojené provincie Střední Ameriky.



KOSTARIKA



POČET OBYVATEL: 5,3 milionu

ROZLOHA: 51 100 km²

MĚNA: kostarický colón

PŘIJETÍ VLAJKY: 1848

O VLAJCE: Španělská nadvláda nad Kostarikou skončila roku 1821, země však získala nezávislost až v roce 1838. O deset let později byla přijata její současná vlajka s barvami podle vlajky francouzské (viz str. 41).



PANAMA



POČET OBYVATEL: 4,5 milionu

ROZLOHA: 75 420 km²


MĚNA: panamská balboa,
americký dolar

PŘIJETÍ VLAJKY: 1904

O VLAJCE: Červená a modrá barva na vlajce představují dvě hlavní politické strany z doby jejího přijetí. Bílá barva symbolizuje mír a svobodu.



BAHAMY



POČET OBYVATEL: 411 000

ROZLOHA: 13 880 km²

MĚNA: bahamský dolar

PŘIJETÍ VLAJKY: 1973

O VLAJCE: Modré pruhy na vlajce představují křišťálové vody Karibského moře, žlutý pruh bahamské pláže. Černý klín symbolizuje sílu a jednotu bahamského lidu.



KUBA



POČET OBYVATEL: 11 milionů

ROZLOHA: 110 860 km²

MĚNA: kubánské peso

PŘIJETÍ VLAJKY: 1902



O VLAJCE: Osamělá hvězda (španělsky *la estrella solitaria*) bílé barvy symbolizuje svobodu země.

HAITI

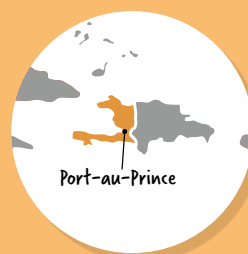


POČET OBYVATEL: 11,8 milionu

ROZLOHA: 27 750 km²

MĚNA: haitský gourde

PŘIJETÍ VLAJKY: 1986



O VLAJCE:

Uprostřed vlajky je umístěn státní znak, na němž se mimo jiné nacházejí palma, buben a dvě děla.

DOMINIKÁNSKÁ REPUBLIKA



POČET OBYVATEL: 10,8 milionu

ROZLOHA: 48 670 km²

MĚNA: dominikánské peso

PŘIJETÍ VLAJKY: 1844



O VLAJCE:

Dominikánská republika je jedinou zemí světa, na jejíž vlajce je vyobrazena Bible. Je otevřená a po každé straně má tři kopí.

JAMAJKA

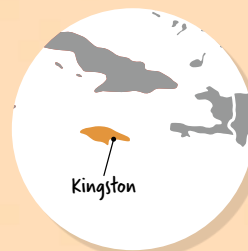


POČET OBYVATEL: 2,8 milionu

ROZLOHA: 10 991 km²

MĚNA: jamajský dolar

PŘIJETÍ VLAJKY: 1962



O VLAJCE: Jamajská vlajka je jedinou státní vlajkou na světě, která neobsahuje červenou, bílou ani modrou barvu.

ANTIGUA A BARBUDA



POČET OBYVATEL: 103 000

ROZLOHA: 443 km²

MĚNA: východokaribský dolar

PŘIJETÍ VLAJKY: 1967



O VLAJCE: Slunce ve středu vlajky odráží teplé klima, ale zároveň symbolizuje úsvit nové éry poté, co země získala nezávislost na Spojeném království Velké Británie a Severního Irsku.

SVATÝ KRYŠTOF A NEVIS

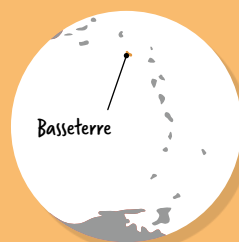


POČET OBYVATEL: 55 000

ROZLOHA: 261 km²
(Svatý Kryštof 168 km², Nevis 93 km²)

MĚNA: východokaribský dolar

PŘIJETÍ VLAJKY: 1983



O VLAJCE: Dvě bílé hvězdy na vlajce představují dva ostrovy, jež tvoří tento federativní stát, tedy Svätý Kryštof a Nevis. Vlajka vzešla ze soutěže vyhlášené krátce před získáním nezávislosti v roce 1983.

DOMINIKA



POČET OBYVATEL: 75 000

ROZLOHA: 751 km²

MĚNA: východokaribský dolar

PŘIJETÍ VLAJKY: 1978



O VLAJCE:

← V červeném středovém kruhu je vyobrazen papoušek amazónan císařský - kriticky ohrožený druh, který žije pouze na tomto ostrově a je jeho národním ptákem.

SVATÁ LUCIE



POČET OBYVATEL: 168 000

ROZLOHA: 616 km²

MĚNA: východokaribský dolar

PŘIJETÍ VLAJKY: 1967



O VLAJCE: Bílý trojúhelník na vlajce znázorňuje nejvyšší horu ostrova Mount Gimie, černý a žlutý pak sopky Velký a Malý Piton, symboly ostrova a slavné orientační body.

SVATÝ VINCENC A GRENADINY



POČET OBYVATEL: 101 000

ROZLOHA: 389 km²
(Svatý Vincenc 344 km²)

MĚNA: východokaribský dolar

PŘIJETÍ VLAJKY: 1985



O VLAJCE: Tři zelené kosočtverce jsou uprostřed vlajky uspořádány do tvaru písmene V (jako Vincenc). Představují diamanty a mají vyjadřovat, že se těmto ostrovům říká „diamanty Malých Antil“.

BARBADOS

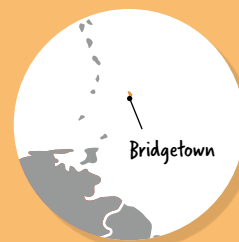


POČET OBYVATEL: 304 000

ROZLOHA: 430 km²

MĚNA: barbadoský dolar

PŘIJETÍ VLAJKY: 1966



O VLAJCE: Uprostřed vlajky se nachází vrchol trojzubce (neboli zlomený trojzubec). Ten symbolizuje nezávislost země na Spojeném království a odtržení od minulosti – když byl Barbados britskou kolonií, byl na vlajce celý trojzubec.

GRENADA



POČET OBYVATEL: 115 000

ROZLOHA: 344 km²

MĚNA: východokaribský dolar

PŘIJETÍ VLAJKY: 1974



O VLAJCE:

Hlavní exportní artikly ostrova představuje koření, zejména muškátový oříšek. V žerďové části vlajky je proto zobrazen červený muškátový oříšek vyčníhávající z rozpuklého míšku.



TRINIDAD A TOBAGO



POČET OBYVATEL: 1,4 milionu

ROZLOHA: 5 128 km²

MĚNA: dolar Trinidadu a Tobaga

PŘIJETÍ VLAJKY: 1962




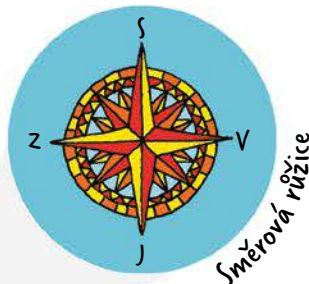

O VLAJCE: Jednotlivé barvy představují zemi (černá), vodu (bílá) a oheň (červená). Červená barva zároveň symbolizuje sluneční teplo a sílu i mírumilovnost zdejších obyvatel.

PIRÁTSKÉ MAPY

Každý ví, jak vypadá pirátská mapa – ručně nakreslený ostrov s přerušovanou čarou vyznačující cestu k zakopané truhle s pokladem, jejíž polohu označuje křížek. Zvláštní ale je, že neexistuje jediný důkaz toho, že by si kdy piráti takové mapy kreslili. Pravděpodobně totiž nakradené poklady raději utratili, než aby je pečlivě zakopávali a pak si jejich polohu vyznačovali na mapě.

OSTROV POKLADŮ


Ostrov pokladů, napínavý příběh o pirátech a ukrytém pokladu, který napsal skotský spisovatel Robert Louis Stevenson, vyšel poprvé roku 1883. Autor do něj vlastnoručně nakreslil mapu, která se pak stala vzorem pro všechny další pirátské mapy.



Většina fiktivních pirátských map obvykle obsahuje stejné prvky.

PIRÁTSKÉ VLAJKY

I když pirátské mapy zřejmě neexistovaly, pirátské vlajky tu určitě byly. Na konci 17. a začátku 18. století začaly pirátské lodě v Karibiku vyvěšovat vlajky, kterými dávaly jiným lodím najevo, že se je chystají napadnout. Vzhled těchto vlajek se lišil, ale většinou byly buď černé, nebo červené a obvykle obsahovaly hrůzostrašné obrázky lebek nebo ďáblů.



Křížek označující poklad

JINÉ PIRÁTSKÉ VLAJKY

Tato vlajka bývá připisována nejslavnějšímu z pirátů Edwardu Teachovi (asi 1680 - 1718), známému jako Černovous. Je na ní kostlivec mířící kopím na srdce, což měl být signál obětem, že s nimi pirát nebude mít slitování.



Mořská příšera



JOLLY ROGER

Podle některých pramenů vyvěšovali první piráti čistě černou vlajku jako výzvu, aby se jim přepadená loď vzdala bez boje. Když se tak nestalo, vyměnili vlajku za červenou, jež oznamovala, že si piráti vezmou zboží násilím. Této vlajce se francouzsky říkalo *jolie rouge* (pěkně červená), z čehož později vzniklo anglické pojmenování Jolly Roger, které zůstalo i poté, co se barva a vzor vlajky změnily.



Bartholomew Roberts (1682-1722), zvaný Černý Bart, byl jedním z nejúspěšnějších pirátů. Během své kariéry oloupil více než 400 lodí. Říká se, že když se chystal k útoku, vyvěsil tuto vlajku s pirátem držícím společně s kostlivcem přesýpací hodiny - znamená jeho obětem, že on se smrti nebojí.

Vážení čtenáři, právě jste dočetli ukázkou z knihy **Mapy a vlajky**.
Pokud se Vám ukázka líbila, na našem webu si můžete zakoupit celou knihu.